



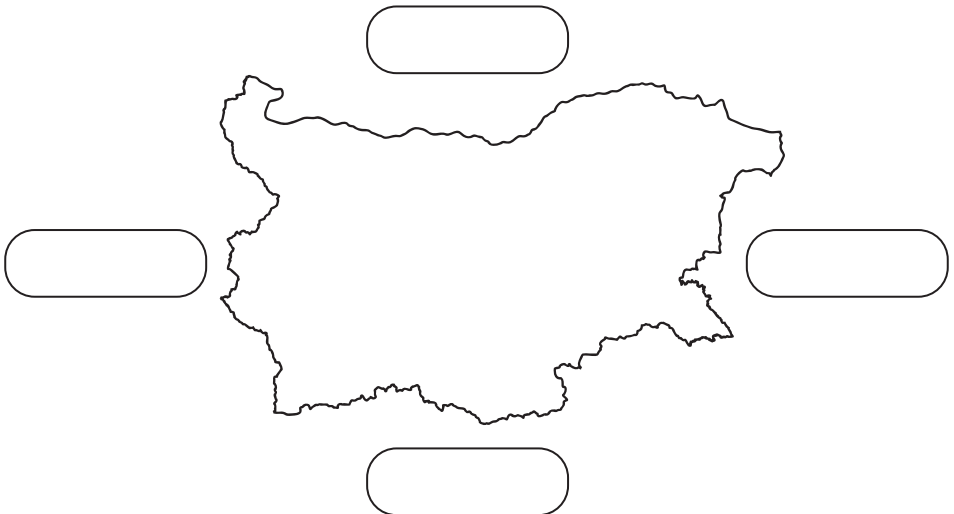
АЗ, ПРИРОДАТА И СВЕТЪТ

III клас

/училище/

/име, презиме, фамилия/

1. Запиши четирите посоки на света в правоъгълните полета.



2. Коя е посоката на картата, в която България и Румъния са свързани по суша?

- а) северозапад
- б) североизток
- в) север

3. Кои от изброените две страни разделя река Дунав?


- а) Македония и България
- б) Румъния и България
- в) Сърбия и България

4. Кое от изображенията е на полуостров?

а)



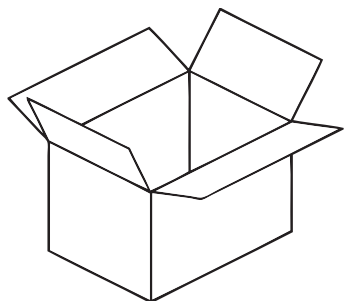
б)



в)



5. „Постави” твърдите вещества в кашона, а течните – в каната, както е показано?



6. Допиши изречението, за да е вярно.

/топене, изпарение, кипене, замръзване/

Преминаването на водата от течно в твърдо състояние се нарича _____.

7. Кои са трите важни символа на България?

Огради верните отговори.

- а) знаме
- б) роза
- в) герб
- г) столица
- д) химн

8. Мירו има рожден ден. Иска да покани само роднини.

Кои ще са поканените? Огради.

- а) леля
- б) баба
- в) учителката
- г) съседката от първия етаж
- д) вуйчо
- е) братовчед
- ж) треньора по волейбол
- з) приятелка



9. Попълни липсващите думи:

Република България е разположена в континента

Знамето на България е трицветно -,

, Столицата на България е град

На картата водните басейни се оцветяват в

цвят, планините - в, а равнините и

низините - в цвят.

10. Попълни така, че да е вярно.

/облаци, дъжд, сняг, вятър, градушка/

Валежите в природата са: _____

_____.

11. Кой е националният телефонен номер за спешни случаи?

а) 112

б) 212

в) 211

г) 121

12. Отбележи поне две вещества, от които може да се направи съответният предмет, както е показано.

Предмет	пластмаса	хартия	кожа	восък	желязо	стъкло
ваза					V	V
стол						
шапка						
бутилка						
нож						