



Състезание „Аз и числата”

I клас

Училище: клас:.....

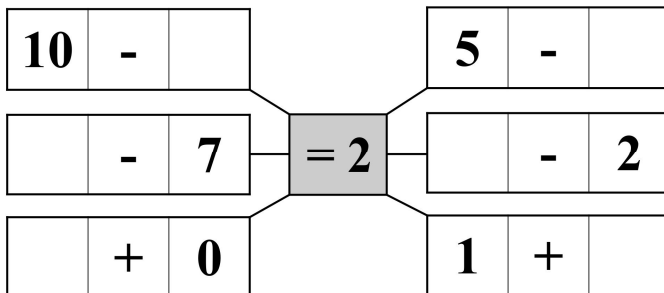
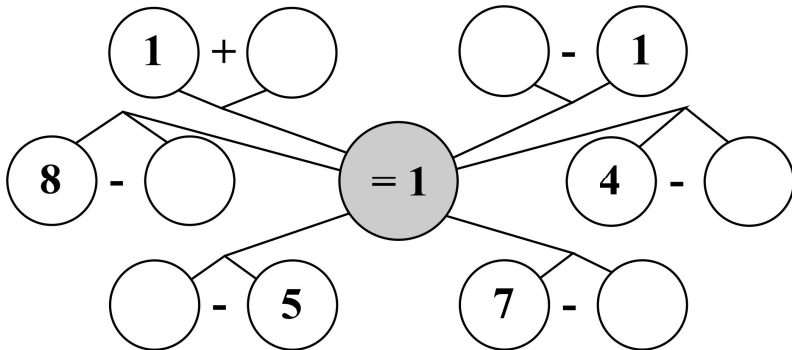
Име, презиме, фамилия:

1. В парка играели 4 момичета и 6 момчета. Колко деца играели в парка?

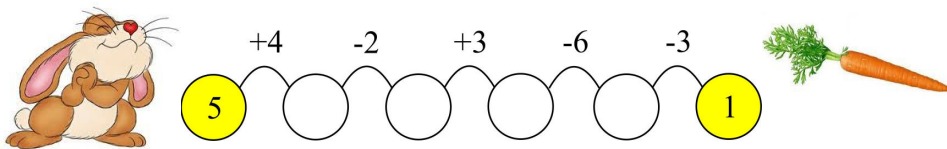
Огради верния отговор.

- а) 7;
- б) 10;
- в) 2.

2. Попълни пропуснатите числа.



3. Зайчето ще стигне до моркова, ако решиш вярно верижката.



4. Кое число е с 6 по-голямо от 10?

Огради верния отговор.

- а) 4;
- б) 16;
- в) 14.

5. Във всяка група от три числа огради това, което е сбор на останалите две числа от групата.

Пример: 3, (9), 6

3, 7, 4

8, 2, 6


5, 5, 10

6. Пресметни и ще разбереш колко пакета подаръци е оставил Дядо Коледа в този дом.



7. Еми оцветила 5 играчки в черно и с 4 повече – в кафяво. Колко играчки в кафяво е оцветила Еми?

- а) 1;
- б) 9;
- в) 4.



8. Реши задачите и огради само тези, на които сборът е равен на десет.

$7 + 2$

$3 + 7$

$6 + 3$

$5 + 5$

$5 + 4$

$9 + 1$

$6 + 4$

$8 + 1$

$2 + 8$

9. На кой ред записаните числа стоят между 15 и 20?
Огради верния отговор.

- а) 13, 14, 15, 16;
- б) 16, 17, 18, 19;
- в) 16, 17, 18, 19, 20.



10. Запиши числата като сбор от десетици и единици.

Пример: $10 = \boxed{1} \text{ дес.} + \boxed{0} \text{ ед.}$

$16 = \boxed{} \text{ дес.} + \boxed{} \text{ ед.}$

$11 = \boxed{} \text{ дес.} + \boxed{} \text{ ед.}$

$20 = \boxed{} \text{ дес.} + \boxed{} \text{ ед.}$

11. В кошница 1 постави едноцифрените числа, а в кошница 2 - двуцифрените, както е показано:



3

13

5

18

2

9


1

14

16

10

12. Напиши колко са елхите, колко са снежните човеци и колко са шейните.



13. Колко са триъгълниците?
Огради верния отговор.

- а) 3;
- б) 4;
- в) 5.

