



/име, презиме, фамилия/

/училище/

1. Разгледай картината и запиши.

А. Колко са децата?



Б. Колко са животните?



В. Общо колко са децата и животните?

2. Пресметни.

$10 + 5 = \square$

$13 - 3 = \square$

$\square + 2 = 12$

$16 - 10 = \square$

$10 + \square = 14$

$\square + 8 = 18$



3. Кое дете кой снежен човек е направило? Свържи.



4. Сравни парите > , < или = .



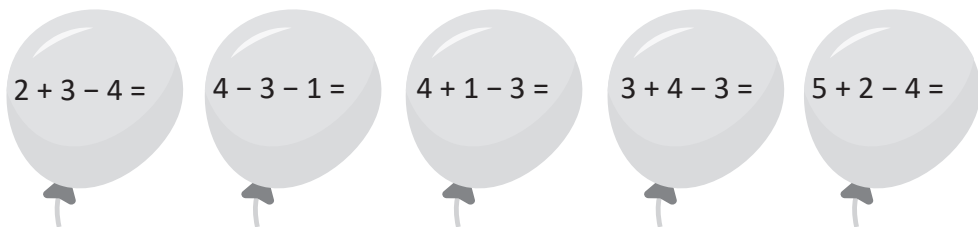
5. Оцвети пътя на Зайо до моркова, като знаеш, че стъпва само на плочки с отговор 4.





$0 + 8 =$	$1 + 3 =$	$2 + 7 =$	$9 - 5 =$	$6 - 2 =$	$8 - 4 =$
$4 + 0 =$	$6 - 3 =$	$7 - 3 =$	$5 - 3 =$	$8 - 2 =$	$7 - 5 =$



6. Пресметни и свържи балоните с отговорите.



7. Запиши ДА или НЕ в квадратчето, за да е вярно.



Играчките са повече от елхите.

Елхите са 8.

Играчките са колкото елхите.

Елхите са с 3 повече от играчките.

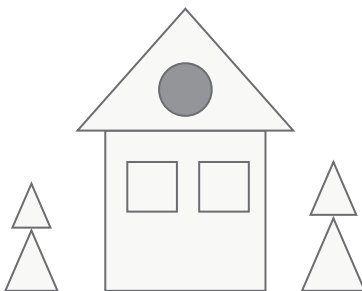
Котката е една.

8. Колко са квадратите, кръговете и триъгълниците във фигурата? Запиши.

кръговете са: _____

квадратите са: _____

триъгълниците са: _____



9. Оцвети едноцифрените числа с червен цвят, а двуцифрените числа – със син цвят.



10. Открой кое е следващото число? Запиши.

2, 4, 6,

8, 6, 4,

1, 3, 5,

9, 7, 5,

11. Постави знаците + , - и = така, че да решиш вярно задачите.

Пример: $9 - 3 = 6$

$5 \square 4 \square 9$

$6 \square 2 \square 4$

$8 \square 4 \square 4$

$4 \square 3 \square 7$

$7 \square 2 \square 9$