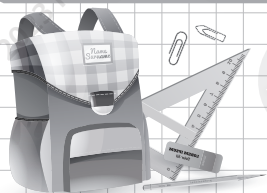




3. клас



състезание  
АЗ И ЧИСЛАТА

/име, презиме, фамилия/

/училище/

1. Огради верния отговор.

Едното събираемо е равно на разликата на числата 564 и 328, а другото е 453. Колко е сборът?

А. 689

Б. 439

В. 589

2. Вярно ли е, че:

Всеки правоъгълник има 4 прави ъгли?

ДА НЕ

Тъпоъгълният триъгълник има 2 прави ъгли?

ДА НЕ

3. Петър имал три банкноти по 20 лева. Развалил ги на по 5 лева. Колко банкноти има сега?

\_\_\_\_\_

\_\_\_\_\_

Сега Петър има \_\_\_\_\_ банкноти.



4. Как ще се промени произведението на числата 9 и 4, ако единия множител увеличим два пъти?

- А. ще се увеличи 6 пъти
- Б. ще се увеличи 4 пъти
- В. ще се увеличи 2 пъти

5. Едно яйце се сварява за 7 минути. За колко минути ще се сварят общо пет яйца?

- А. 35 мин.
- Б. 21 мин.
- В. 7 мин.



6. В три автомобила пътували 12 души, поравно във всеки, а в автобус пътували 40 пътници. Колко пъти повече са пътниците в автобуса от пътниците в един автомобил?

---

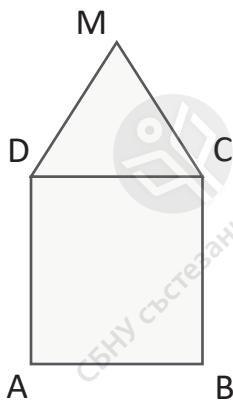
---

---



- А. 20 пъти
- Б. 5 пъти
- В. 10 пъти

7. Фигурата ABCD е квадрат, а DCM е равностранен триъгълник. Обиколката на триъгълника DCM е 18 см. Намери обиколката на фигурата, образувана от триъгълника и квадрата.



---


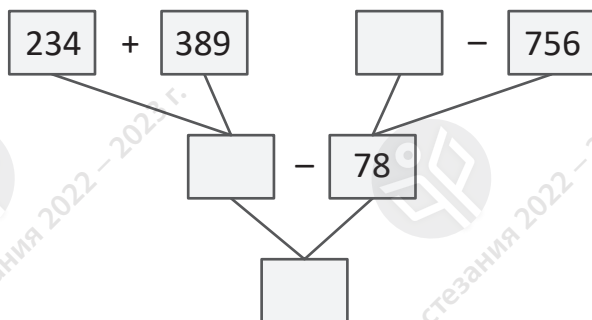
---

---

---

Обиколката е \_\_\_\_\_ см.

## 8. Пресметни и попълни схемата.



---

---

---

9. Майката на Ели, Ива и Мая купила за Коледа книга, ролери и микрофон. Какъв подарък получила всяка от тях, ако знаем, че Ели не обича да се пързая, а Мая не обича нито да се пързая, нито да пее.

Мая получила

Ели получила

Ива получила

---

---

---

10. Нели записала числата 2, 3 и 4. От тях образувала трицифрени числа, които подредила по големина. Намери сбора на най-малкото и най-голямото число от тях.


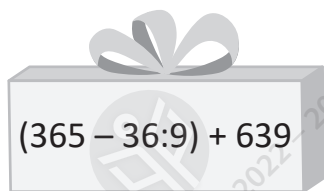
---

---

---

Сборът е \_\_\_\_\_

11. Реши задачите и ще разбереш кое дете коя кутия ще получи. Свържи.



---

---

---

---

---

---

---

---

12. Ученици от трети клас тръгнали на екскурзия и изминали общо 450 километра. С влак пътували 250 км, които са с 52 км повече, отколкото с автобус. Останалото разстояние изминали пеша по туристически пътеки.

|                                     |    |
|-------------------------------------|----|
| Колко километра изминали с автобус? | км |
| Колко километра изминали пеша?      | км |

---

---

